

כלכלה בדרך הקלה

ספר תרגול במיקרו כלכלה

סטודנטים יקרים

לפניכם ספר תרגילים בקורס מבוא למיקרו כלכלה. הספר הוא חלק מפרויקט חדשני וראשון מסוגו בארץ במקצוע זה, המועבר ברשת האינטרנט On-line. הקורס באתר כולל פתרונות מלאים לספר התרגילים.

הפתרונות מוגשים בסרטוני וידאו המלווים בהסבר קולי, כך שאתם רואים את התהליכים בצורה מובנית, שיטתית ופשוטה, ממש כפי שנעשה בשיעור פרטי.

את הקורס בנה מר עופר לוי, מרצה מבוקש ומחבר סדרת הספרים "כלכלה בדרך הקלה" במקצועות מיקרו כלכלה, מאקרו כלכלה ותורת המחירים, אשר לימד אלפי סטודנטים מרוצים.

אז אם אתם עסוקים מידי בעבודה, סובלים מלקויות למידה, רוצים להצטיין או פשוט אוהבים ללמוד בשקט בבית, אנחנו מזמינים אתכם לחוויית לימודים יוצאת דופן וחדשה לחלוטין, היכנסו עכשיו לאתר



אנו מאחלים לכם הצלחה מלאה בבחינות

צוות האתר GooL

גול, בשביל התירגול !

לפתרון מלא בסרטון וידאו היכנסו ל- www.GooL.co.il

כתב ופתר – עופר לוי ©

פרק א: עקומת תמורה ומסחר בינלאומי

הנחת יסוד: עקומת התמורה קמורה (רגילה), אלא אם נאמר אחרת.

1.1. להלן מספר טענות לגבי עקומת התמורה:

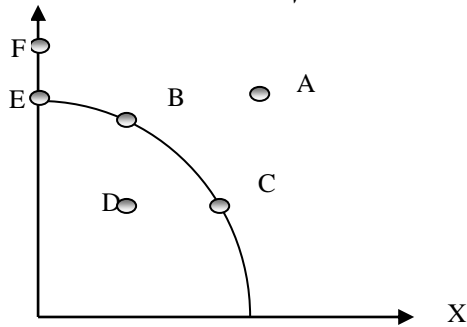
- א. עקומת התמורה תגדל (תצא החוצה) אם תקטן האבטלה במשק.
- ב. עקומת התמורה תגדל (תצא החוצה) אם המשק יעבור ממצב לא יעיל למצב יעיל.
- ג. עקומת התמורה תגדל (תצא החוצה) אם יחול שיפור טכנולוגי בייצור אחד המוצרים.
- ד. עקומת התמורה תגדל (תצא החוצה) יקטן מספר העובדים.
- ה. עקומת התמורה תגדל (תצא החוצה) אם המשק יקבל מענק מאחד המוצרים.

1.2. משק מייצר את מוצר X ומוצר Y באמצעות עובדים בלבד. להלן מספר טענות לגבי המשק כאשר

הוא מייצר משני המוצרים ונמצא על עקומת התמורה:

- א. המשק מייצר באופן יעיל ולכן הגדלת הייצור של מוצר X מחייבת ויתור על מוצר Y.
- ב. ההוצאה האלטרנטיבית השולית לייצור כל אחד מן המוצרים יכולה להיות חיובית או אפס.
- ג. המשק מייצר באופן יעיל ולכן ניתן להגדיל את הייצור של מוצר אחד מבלי להקטין את הייצור של המוצר השני.
- ד. על מנת להגדיל ייצור מוצר X אפשר להעביר עובדים מייצור מוצר X לייצור מוצר Y.

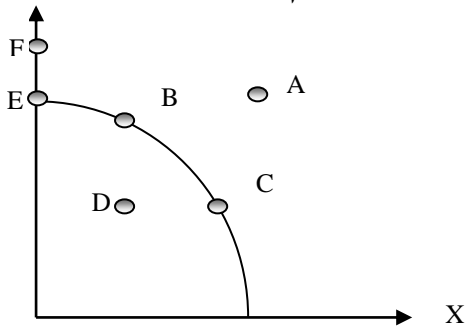
1.3. להלן תרשים של עקומת תמורה ומספר נקודות הנמצאות ביחס מסוים לעקומה.



להלן מספר טענות לגבי התרשים:

- א. הייצור בנקודה E איננו יעיל יותר מהייצור בנקודה B.
- ב. הייצור בנקודה A יעיל יותר מהייצור בנקודה B.
- ג. הייצור בנקודה C יעיל יותר מהייצור בנקודה B.
- ד. הייצור בנקודה D יעיל יותר מהייצור בנקודה B.

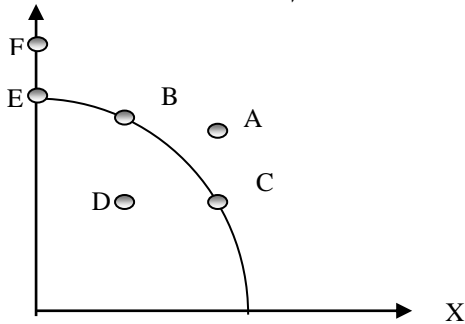
1.4. להלן תרשים של עקומת תמורה ומספר נקודות הנמצאות ביחס מסוים לעקומה.



להלן מספר טענות לגבי התרשים :

- א. ההוצאה האלטרנטיבית השולית לייצור מוצר X חיובית בנקודות D ו E.
- ב. ההוצאה האלטרנטיבית השולית לייצור מוצר X חיובית בנקודות B ו C.
- ג. במעבר מנקודה D לנקודה B, ניתן להגדיל את ייצור מוצר Y רק ע"י ויתור על מוצר X.
- ד. במעבר מנקודה C לנקודה B, ההוצאה האלטרנטיבית השולית לייצור מוצר X גדלה.

1.5. להלן תרשים של עקומת תמורה ומספר נקודות הנמצאות ביחס מסוים לעקומה.



להלן מספר טענות לגבי התרשים :

- א. שיפור טכנולוגי בייצור מוצר X יכול לאפשר למשק לייצר בנקודה F.
- ב. שיפור טכנולוגי בייצור מוצר Y לא יכול להביא לגידול בייצור שני המוצרים.
- ג. אם, במצב המוצא, המשק מייצר בנקודה E, אזי שיפור טכנולוגי בייצור מוצר X לא יכול להביא לגידול בייצור שני המוצרים.
- ד. מענק שהמשק מקבל ממוצר X יכול להביא את המשק לייצר בנקודה A.

1.6. להלן מספר טענות לגבי עקומת התמורה :

- א. גידול בכמות גורמי הייצור תגדיל בהכרח את עקומת התמורה.
- ב. ייצור יעיל מחייב תעסוקה מלאה של כל גורמי הייצור.
- ג. אם המשק נמצא על גבול אפשרויות הייצור הוא מייצר באופן יעיל.
- ד. אם חלק מגורמי הייצור מובטלים, הרי שניתן להגדיל את התפוקה של מוצר אחד ללא ויתור על המוצר השני.

1.7. להלן מספר טענות לגבי עקומת התמורה של משק בעל גורם ייצור יחיד (עבודה). איזו מהטענות הבאות אינה נכונה :

- א. גידול בכמות גורמי הייצור תגדיל בהכרח את עקומת התמורה.
- ב. ייצור יעיל מחייב תעסוקה מלאה של כל גורמי הייצור.
- ג. אם המשק נמצא על גבול אפשרויות הייצור הוא מייצר באופן יעיל.
- ד. אם חלק מגורמי הייצור מובטלים, הרי שההוצאה האלטרנטיבית השולית לייצור יחידת מוצר נוספת היא חיובית.

1.8. משק מייצר את מוצר X ומוצר Y באמצעות עובדים בלבד. להלן מספר טענות :

- א. אם הכמויות המקסימליות שהמשק יכול לייצר משני המוצרים שוות, אזי ההוצאה האלטרנטיבית השולית לייצור מוצר X שווה 1.
- ב. אם המשק מייצר כמויות שוות משני המוצרים, אזי ההוצאה האלטרנטיבית השולית לייצור מוצר X שווה 1.
- ג. אם הכמויות המקסימליות שהמשק יכול לייצר משני המוצרים שוות, אזי ההוצאה האלטרנטיבית הממוצעת לייצור מוצר X שווה 1, אם המשק מייצר רק את מוצר X.
- ד. אם המשק מייצר כמויות שוות משני המוצרים, אזי ההוצאה האלטרנטיבית השולית לייצור מוצר X שווה 1, רק אם עקומת התמורה ליניארית.

1.9. במשק הישראלי מייצרים מוצרי מזון ומוצרי בידור. כעת החליטו להעביר חלק מן הפועלים מייצור מזון לייצור מוצרי בידור. התברר שתפוקת מוצרי הבידור גדלה בעוד תפוקת מוצרי המזון לא השתנתה. איזו מן הטענות הבאות המתאימה למעבר הפועלים אינה נכונה :

- א. במצב המוצא, הייצור במשק לא היה יעיל.
- ב. התפוקה השולית של הפועלים שהועברו הייתה חיובית בשני המוצרים.
- ג. התפוקה השולית של הפועלים שהועברו הייתה חיובית בייצור מוצרי בידור ואפס בייצור מוצרי מזון.
- ד. ההוצאה האלטרנטיבית השולית לייצור מוצרי בידור הייתה אפס.

- 1.10.** אם ידוע שהמשק מייצר תמיד כמויות חיוביות משני המוצרים ונמצא על עקומת התמורה, אזי:
- ההוצאה האלטרנטיבית השולית בייצור שני המוצרים גדולה מאפס.
 - אם בנוסף נתון שהמשק מייצר כמות שווה משני המוצרים, אזי ההוצאה האלטרנטיבית השולית שווה ל-1.
 - אם בנוסף נתון שחלק מגורמי הייצור אינם מועסקים, אזי המשק אינו מייצר ביעילות.
 - גידול בכמות של אחד מגורמי הייצור יביא בהכרח לגידול בכמות המיוצרת ממוצר Y .

- 1.11.** משק מייצר את מוצר X ומוצר Y באמצעות עובדים בלבד. ידוע שהתפוקה השולית של העובדים קבועה בשני המוצרים. איזו מן הטענות הבאות **אינה נכונה**:
- עקומת התמורה של המשק ליניארית.
 - ההוצאה האלטרנטיבית השולית לייצור מוצר X קבועה ושווה להוצאה האלטרנטיבית השולית לייצור מוצר Y .
 - אם הכמויות המקסימליות שהמשק יכול לייצר משני המוצרים שוות, אזי ההוצאה האלטרנטיבית השולית לייצור מוצר X שווה 1.
 - ההוצאה האלטרנטיבית השולית לייצור מוצר X שווה להוצאה האלטרנטיבית הממוצעת לייצור מוצר X .

1.12. להלן מספר טענות לגבי עקומת התמורה:

- אם התפוקה השולית של גורם הייצור חיובית וקבועה בייצור שני המוצרים, עקומת התמורה תהיה ליניארית.
- רק אם התפוקה השולית של גורם הייצור חיובית ופוחתת בייצור שני המוצרים, עקומת התמורה תהיה קמורה (רגילה).
- אם קיימים שני גורמי ייצור שונים והתפוקה השולית של שני גורמי הייצור חיובית וקבועה בייצור שני המוצרים, עקומת התמורה תהיה קו שבור בעל שני קטעים.
 - רק טענה 1 נכונה.
 - רק טענה 2 נכונה.
 - רק טענה 3 נכונה.
 - טענות 1 ו-2 נכונות.

פרק ב: פונקציות ייצור (הקשר בין תפוקה שולית לתפוקה ממוצעת)

2.1. להלן מספר טענות לגבי הקצאה יעילה (הניחו שחוק התפוקה שולית הפוחתת מתקיים):

- א. כדאי להעסיק פועל כל עוד תפוקתו השולית חיובית.
- ב. כדאי להעסיק פועל עד שתפוקתו השולית שווה אפס.
- ג. כדאי להעסיק פועל כל עוד תפוקתו השולית אינה פוחתת.
- ד. כדאי להעסיק פועל כל עוד תפוקתו השולית גבוהה או שווה לשכר שלו.

2.2. להלן מספר טענות לגבי הקצאה יעילה (הניחו שחוק התפוקה שולית הפוחתת מתקיים):

- א. גידול במספר גורמי הייצור הקבועים (שדות) בלבד מקטין את התפוקה השולית שלהם ומגדיל את התפוקה השולית של גורם הייצור המשתנה (פועלים).
- ב. גידול במספר גורמי הייצור הקבועים (שדות) בלבד מגדיל את התפוקה השולית שלהם ומקטין את התפוקה השולית של גורם הייצור המשתנה (פועלים).
- ג. תפוקתו השולית של גורם הייצור הקבוע (שדה או מכונה) שווה לתפוקתו השולית של גורם הייצור המשתנה (פועלים).
- ד. כל הטענות אינן נכונות.

2.3. משק מייצר באמצעות גורמי ייצור קבועים (שדות או מכונות) ובאמצעות גורמי ייצור משתנים

- (פועלים) בתנאי תפוקה שולית פוחתת. להלן מספר טענות:
 - א. גידול במספר הפועלים יקטין את התפוקה הכוללת.
 - ב. גידול במספר המכונות יקטין את התפוקה הכוללת.
 - ג. גידול במספר המכונות והפועלים בו זמנית יקטין את התפוקה השולית של שניהם.
 - ד. כל הטענות האחרות אינן נכונות.

2.4. להלן פונקציית הייצור של שדה חיטה המצוי בבעלותו של בעל שדה יחיד.

מספר פועלים	תפוקה כוללת בק"ג ביום עבודה
1	80
2	150
3	210
4	260
5	300
6	290

בעל השדה יכול להעסיק פועלים בשכר של 200 ₪ ליום. ק"ג חיטה נמכר בשוק החופשי בסך של 5 ₪ לק"ג. מכאן ש:

- כדאי לבעל השדה להעסיק 4 פועלים.
- רווחי בעל השדה יהיו 600 ₪ ליום עבודה.
- התפוקה השולית של הפועלים עולה ואחר כך פוחתת.
- ההוצאה השולית לייצור ק"ג חיטה עולה עם גידול בתפוקה.

2.5. להלן פונקציית הייצור של מכונה לייצור נעליים כפונקציה של מספר הפועלים המועסקים בה בחודש עבודה.

מספר פועלים	תפוקה כוללת של זוגות נעליים
1	80
2	190
3	290
4	350
5	400
6	420

שכר פועל במשק הוא 7000 ₪ לחודש. מחיר נעליים בשוק הוא 100 ₪ לזוג. בעל המפעל שילם מראש בתחילת השנה שכר דירה חודשי בסך 2,000 ₪ לחודש. מכאן ש:

- התפוקה הכוללת תהיה 420 זוגות נעליים בחודש.
- המפעל יעסיק 5 פועלים.
- ההוצאה השולית לייצור זוג נעליים עולה כל הזמן.
- רווחי בעל המפעל יהיו 6,000 ₪ לחודש.

פרק ג: קשרי גומלין בין שוק המוצרים לשוק העבודה

לפרק זה יש הסבר בלבד. ללא תרגילים.

פרק ד: שיווי משקל בתחרות משוכללת

(כולל מוצרים משלימים ותחליפיים)

4.1. איזה מהגורמים הבאים משפיע על עקומת הביקוש?

- א. שיפור טכנולוגי.
- ב. עלייה במחיר חומרי הגלם.
- ג. עלייה במחיר מוצר תחליפי.
- ד. גידול במספר היצרנים.

4.2. איזה מהגורמים הבאים משפיע על עקומת ההיצע של יצרן בודד?

- א. גידול בתפוקה השולית של הפועלים.
- ב. התייקרות של ההוצאות הקבועות.
- ג. ירידה במחיר מוצר משלים.
- ד. עלייה במחיר מוצר תחליפי.
- ה. גידול במספר היצרנים.

4.3. להלן מספר טענות על עקומת הביקוש. איזו מהן נכונה :

- א. אם הביקוש גמיש לחלוטין, אזי הצרכנים מוכנים לשלם מחיר קבוע עבור כל כמות.
- ב. אם הביקוש קשיח לחלוטין, אזי הצרכנים מוכנים לשלם מחיר קבוע עבור כל כמות.
- ג. אם הביקוש גמיש לחלוטין, אזי הצרכנים מוכנים לשלם סכום קבוע עבור כל כמות.
- ד. אם הביקוש בעל גמישות יחידתית, אזי הצרכנים מוכנים לקנות כמות קבועה בכל מחיר.

4.4. להלן מספר טענות על עקומת ההיצע. איזו מהן אינה נכונה :

- א. אם ההיצע גמיש לחלוטין, התפוקה השולית קבועה.
- ב. אם ההיצע גמיש לחלוטין, אזי היצרנים מוכנים להציע כמות מסוימת בכל מחיר.
- ג. אם ההיצע עולה משמאל לימין, אזי התפוקה השולית פוחתת.
- ד. אם ההיצע בעל גמישות יחידתית, אזי עקומת ההיצע ליניארית ויוצאת מראשית הצירים.

4.5. להלן מספר טענות על שיווי משקל משקל תחרותי ועקומות הביקוש וההיצע. איזו מהן נכונה :

- א. גידול בהיצע מגדיל את הביקוש.
- ב. שיפור טכנולוגי מגדיל את ההיצע ואת הביקוש.
- ג. עלייה בשכר העבודה תגרום לתזוזה של ההיצע ולתנועה על הביקוש.
- ד. גידול בהכנסת הצרכנים עבורם המוצר נורמלי במקביל לשיפור טכנולוגי יכולים לגרום לירידת הכמות בשיווי משקל.

4.6. שינוי בענף X גרם לכך שהמחיר ירד והכמות לא השתנתה. מה יכול להיות הסבר אפשרי לכך :

- א. עקומות הביקוש וההיצע רגילות.
- ב. עקומת הביקוש רגילה ועקומת ההיצע קשיחה לחלוטין.
- ג. עקומת הביקוש רגילה ועקומת ההיצע גמישה לחלוטין.
- ד. עקומת הביקוש גמישה לחלוטין ועקומת ההיצע רגילה.

פרק ה: מונופול

5.1. בשוק X קיים יצרן יחיד המייצר כמות אופטימלית. ליצרן הוצאה שולית חיובית וקבועה. עקומת

הביקוש ליניארית. טענות :

- א. המונופול מצוי בנקודה בה גמישות הביקוש גדולה מיחידתית.
- ב. אם יקבל המונופול סובסידיה ליחידה בגובה שהעלות שבה הוא מייצר, הוא יבחר לייצר מחצית מהכמות המקסימלית שמבקשים הצרכנים, וגמישות הביקוש בנקודה תהיה יחידתית.
- ג. אם גמישות הביקוש בנקודה האופטימלית שווה ל -2, הרי שהפידיון השוליות שווה למחצית מהמחיר לצרכן.

1. רק טענה ב' נכונה.

2. כל הטענות נכונות.

3. רק טענה ג' נכונה.

4. רק טענות א' וב' נכונות.

5. רק טענות א' וג' נכונות.

פרק ו: התערבות ממשלה – מס / סובסידיה

(כולל מחיר מינימום ומחיר מקסימום)

6.1. בשוק X שוררת תחרות משוכללת. הניחו שעקומות ההיצע והביקוש לרגילות (עקומת הביקוש יורדת משמאל לימין ועקומת ההיצע עולה משמאל לימין). הכמות הנמכרת במצב המוצא היא 1000 יחידות. הממשלה נותנת ליצרנים סובסידיה לכל יחידה מיוצרת של 10 ₪. מכאן ש:

- א. רק היצרנים יהנו מהסובסידיה.
- ב. המחיר ליצרן ולצרכן יירד.
- ג. הוצאות הממשלה על הסובסידיה תהיינה גבוהות מ 10,000 ₪.
- ד. המחיר לצרכן יירד ב- 10 ₪ בדיוק.

6.2. בשוק X שוררת תחרות משוכללת. הניחו שעקומות ההיצע והביקוש לרגילות (עקומת הביקוש יורדת משמאל לימין ועקומת ההיצע עולה משמאל לימין). הממשלה נותנת ליצרנים סובסידיה בגודל קבוע לכל יחידה מיוצרת. מכאן ש:

- א. ככל שעקומת הביקוש גמישה יותר, הירידה במחיר לצרכן תהיה גדולה יותר.
- ב. ככל שעקומת הביקוש קשיחה יותר, העלייה במחיר ליצרן תהיה גדולה יותר.
- ג. ככל שעקומת ההיצע גמישה יותר, הירידה במחיר לצרכן תהיה קטנה יותר.
- ד. ככל שעקומת ההיצע קשיחה יותר, העלייה במחיר ליצרן תהיה גדולה יותר.
- ה. השינוי במחירים אינו תלוי בגמישויות של עקומות ההיצע והביקוש.

6.3. בשוק X שוררת תחרות משוכללת. הניחו שעקומות ההיצע והביקוש לרגילות (עקומת הביקוש יורדת משמאל לימין ועקומת ההיצע עולה משמאל לימין). הממשלה נותנת ליצרנים סובסידיה בגודל קבוע לכל יחידה מיוצרת. מכאן ש:

- א. אם הממשלה תתן את הסובסידיה לצרכנים יתקבל שיווי משקל שונה.
- ב. אם עקומת ההיצע גמישה לחלוטין, המחיר לצרכן לא ישתנה.
- ג. אם עקומת הביקוש גמישה לחלוטין, המחיר לצרכן לא ישתנה.
- ד. אם עקומת ההיצע קשיחה לחלוטין, המחיר ליצרן לא ישתנה.
- ה. אם עקומת הביקוש קשיחה לחלוטין, המחיר לצרכן לא ישתנה.

6.4. נתון שבשיווי משקל נמכרת כמות של 100 יחידות ממוצר X במחיר של 50 ש"ח. הממשלה מעוניינת להוריד את המחיר לצרכן ב-10 ש"ח.

- א. אם עקומות הביקוש וההיצע רגילות, על הממשלה לתת סובסידיה ליצרן גבוהה מ-10 ₪. במקרה כזה, העלות הכוללת של הסובסידיה תהיה 1,000 ש"ח.
- ב. אם עקומת הביקוש קשיחה לחלוטין, על הממשלה לתת סובסידיה ליצרן של 10 ש"ח בדיוק, והעלות הכוללת של הסובסידיה תהיה 1,000 ש"ח.
- ג. אם עקומת הביקוש גמישה לחלוטין, על הממשלה לתת סובסידיה ליצרן של 10 ש"ח בדיוק, והעלות הכוללת של הסובסידיה תהיה 1,000 ש"ח.
- ד. הממשלה יכולה לקבוע מחיר מקסימום של 40 ש"ח ולתת ליצרן סובסידיה של 10 ש"ח ליחידה.